



شماره داوطلب
نام خانوادگی و نام

خراسان رضوی
شهر



سروش اندیشه
مؤسسه فرهنگی هنری

آزمون تشریحی

۱۴۰۵/۰۱/۲۰

جمهوری اسلامی ایران
وزارت فرهنگ و ارشاد
اسلامی مؤسسه سروش
اندیشه حیات

آزمون جمع بندی مباحث یازدهم انسانی

شماره داوطلبی:

نام و نام خانوادگی:

مدت پاسخگویی: ۱۲۰ دقیقه

تعداد سوال: ۵۱ عدد

عنوان مواد امتحانی آزمون اختصاصی، تعداد، شماره سوالات و مدت پاسخگویی

ردیف	مواد امتحانی	تعداد سوال	از شماره	تا شماره	مدت پاسخگویی
۱	جامعه	۸	۱	۸	۳۰ دقیقه
۲	روانشناسی	۱۵	۱	۱۵	۳۰ دقیقه
۳	ریاضی	۱۴	۱	۱۴	۳۰ دقیقه
۴	زبان	۱۴	۱	۱۴	۳۰ دقیقه

به دانش فزای و به یزدان گرای، که او باد جان تورا رهنمای (فردوسی)

<p>نام: نام خانوادگی:</p>	 <p>سروش اندیشه مؤسسه فرهنگی-هنری</p> <p>نام برگزارکننده: سروش اندیشه</p>	<p>نام: آزمون: تعداد سوال: 8</p> <p>جامعه 21 تنستی فصل 3 تا 20 فروردین</p>
-------------------------------	---	--

ردیف	سوال	بارم
۱	درستی یا نادرستی عبارت زیر را مشخص کنید. کشورها در ایجاد بحران‌ها سهم یکسانی دارند اما همه از پیامدهای نامطلوب آنها متأثر نمی‌شوند.	۰.۲۵
۲	کدام یک از گزاره‌های زیر صحیح بیان نشده‌اند؟ الف) روشنگری در معنای خاص، روشی از معرفت و شناخت است که با سکولاریسم و اومانیسم همراه شده است. ب) روشنگری با رویکرد دنیوی، اگر با شناخت عقلی همراه باشد، به دلیل اینکه وحی را نمی‌پذیرد به «دئیسم» منجر می‌شود. ج) استبداد با وجود اینکه دارای هویتی اسلامی بود به دلیل اینکه پشتوانه و پیشینه‌ای خارج از جهان اسلام داشت، می‌کوشید با رعایت ظواهر اسلامی، ظاهر دینی خود را حفظ کند. د) غلبه قدرت‌هایی مانند سلجوقیان، خوارزمشاهیان، مغولان و عثمانی که در چارچوب فرهنگ قومی و قبیله‌ای رفتار می‌کردند، مانع می‌شد تا ظرفیت‌های فرهنگ اسلامی به طور کامل آشکار شود.	۰.۲۵
۳	هر یک از عبارت‌های زیر بجز یکی به کدام ویژگی فرهنگ مطلوب جهانی اشاره دارد؟ الف) جلوگیری از دو قطبی شدن جهان ب) حذف قید و بندها برای رسیدن انسان به کمال و حقوق انسانی‌اش ج) توانایی پاسخ دادن به پرسش‌های ثابت و متغیر بشر د) گرفتن قدرت مقاومت از آدمیان و ایجاد انفعال در آنها در برابر سلطه‌گران	۱
۴	دو ویژگی جهان تکوینی را از نظر قرآن بیان کنید.	۱.۲۵
۵	روشنگری در معنای خاص به چه مبنایی گفته می‌شود و چه روشی است؟	۱.۲۵
۶	تفاوت استبداد ایلی و قومی را با استبداد استعماری بنویسید.	۲
۷	چه فرهنگی بشر را به بحران‌های روحی و روانی گرفتار می‌کند؟	۲
۸	راهبرد استبداد قومی در مقایسه با استبداد استعماری چیست؟	۲
		۱۰

<p>نام آزمون: روانشناسی درس اتا ۷</p> <p>تعداد سوال: ۱۵</p>	 <p>نام برگزارکننده: موسسه سروش اندیشه</p>	<p>نام: _____</p> <p>نام خانوادگی: _____</p>
---	--	--

بارم	سوال	ردیف										
۰.۲۵	<p>صحيح يا غلط بودن عبارت زیر را مشخص کنید. در صورت شباهت دو تکلیف اثر منفی هم زمان شدن آنها کمتر می شود.</p>	۱										
۰.۲۵	<p>صحيح يا غلط بودن عبارت زیر را مشخص کنید. کودکان به علت رمزگردانی خلاصه و کلی احتمالی خطای بیشتری دارند.</p>	۲										
۰.۲۵	<p>با کلمه مناسب کامل کنید. پردازش علاوه بر ویژگی های حسی تحت تأثیر ویژگی های کیفی قرار دارد.</p>	۳										
۱	<p>هر یک از عبارت های ستون اول با کدام یک از موارد ستون دوم مرتبط است؟ (یک مورد اضافه است)</p> <table border="1" data-bbox="140 1032 1442 1621"> <thead> <tr> <th data-bbox="140 1032 539 1111">ستون اول</th> <th data-bbox="539 1032 1442 1111">ستون دوم</th> </tr> </thead> <tbody> <tr> <td data-bbox="140 1111 539 1245">الف) اتومبیل زیبایی توجه طراح خودرویی را جلب می کند، سپس از روی آن، نمونه جدیدی را طراحی می کند.</td> <td data-bbox="539 1111 1442 1245">۱- خرد کن</td> </tr> <tr> <td data-bbox="140 1245 539 1379">ب) معلم کلاس ورزش از پیشنهاد های دانش آموزان در اجرای یک مسابقه ورزشی شاد استفاده می کند.</td> <td data-bbox="539 1245 1442 1379">۲- تحلیلی</td> </tr> <tr> <td data-bbox="140 1379 539 1503">ج) فردی برای مطالعه یک کتاب دویست صفحه ای روزی ده صفحه از آن را مطالعه می کند.</td> <td data-bbox="539 1379 1442 1503">۳- کاهش تفاوت وضعیت موجود با وضعیت مطلوب</td> </tr> <tr> <td data-bbox="140 1503 539 1621">د) زمانی که فردی برای رسیدن به وزن مطلوب، (از ۸۰ کیلو به ۶۵ کیلو) فعالیت مناسب ورزشی را انتخاب می کند.</td> <td data-bbox="539 1503 1442 1621">۴- شروع از آخر</td> </tr> </tbody> </table>	ستون اول	ستون دوم	الف) اتومبیل زیبایی توجه طراح خودرویی را جلب می کند، سپس از روی آن، نمونه جدیدی را طراحی می کند.	۱- خرد کن	ب) معلم کلاس ورزش از پیشنهاد های دانش آموزان در اجرای یک مسابقه ورزشی شاد استفاده می کند.	۲- تحلیلی	ج) فردی برای مطالعه یک کتاب دویست صفحه ای روزی ده صفحه از آن را مطالعه می کند.	۳- کاهش تفاوت وضعیت موجود با وضعیت مطلوب	د) زمانی که فردی برای رسیدن به وزن مطلوب، (از ۸۰ کیلو به ۶۵ کیلو) فعالیت مناسب ورزشی را انتخاب می کند.	۴- شروع از آخر	۴
ستون اول	ستون دوم											
الف) اتومبیل زیبایی توجه طراح خودرویی را جلب می کند، سپس از روی آن، نمونه جدیدی را طراحی می کند.	۱- خرد کن											
ب) معلم کلاس ورزش از پیشنهاد های دانش آموزان در اجرای یک مسابقه ورزشی شاد استفاده می کند.	۲- تحلیلی											
ج) فردی برای مطالعه یک کتاب دویست صفحه ای روزی ده صفحه از آن را مطالعه می کند.	۳- کاهش تفاوت وضعیت موجود با وضعیت مطلوب											
د) زمانی که فردی برای رسیدن به وزن مطلوب، (از ۸۰ کیلو به ۶۵ کیلو) فعالیت مناسب ورزشی را انتخاب می کند.	۴- شروع از آخر											
۰.۵	<p>پاسخ کوتاه دهید. ظرفیت گنجایش در کدام یک از انواع حافظه نامحدود است؟ (۲ مورد)</p>	۵										
۰.۵	<p>برای مورد زیر مثالی ذکر کنید. هیجان مرکب</p>	۶										

ردیف	سوال	بارم
۷	عبارت‌های زیر با کدام یک از فنون بهسازی مطالعه مرتبط است؟ الف) سامان به این نکته دست یافته که پس از شرکت در هر آزمون در بازیابی موفق اطلاعات توانمندتر می‌شود. ب) سارا برای یادگیری مفهوم جامد، از مثال‌های بیشتری استفاده می‌کند. ج) نیما عد دهشت رقمی ۱۴۰۳۲۰۲۴ را به ترتیب سال شمسی (۱۴۰۳) و سال میلادی (۲۰۲۴) به خاطر می‌سپارد.	۰.۷۵
۸	پاسخ کوتاه دهید. تأثیر یادگیری گذشته بر حل مسئله چه نام دارد؟	۰.۵
۹	پاسخ کوتاه دهید. دو ویژگی مسئله را نام ببرید.	۰.۵
۱۰	ابعاد مهم سبک زندگی را نام ببرید.	۰.۷۵
۱۱	از اصول گشتالشت چهار مورد را ذکر کنید؟	۱
۱۲	روان شناسی رشد را تعریف کنید.	۱
۱۳	توع تعارض را در عبارت زیر مشخص کنید. اعضای خانواده‌ای علاقه دارند تابستان امسال به شهرهای شمالی و جنوبی سفرکنند. اما به دلیل محدودیت زمانی باید یکی از دو شهر مورد علاقه خود را انتخاب کنند ولی تردید دارند که کدام یک را برگزینند.	۰.۵
۱۴	رمز گردانی کودکان و بزرگسالان را با هم مقایسه کنید.	۱.۵
۱۵	چه عواملی در رشد قبل از تولد موثر است؟ (سه مورد)	۰.۷۵
		۱۰





<p>نام: ریاضی یازدهم انسانی فصل ۱ و ۲</p> <p>آزمون:</p> <p>تعداد سوال: ۱۴</p>	 <p>سروش اندیشه مؤسسه فرهنگی-هنری</p> <p>نام برگزارکننده: موسسه سروش اندیشه</p>	<p>نام خانوادگی:</p>
---	---	----------------------

بارم	سوال	ردیف
۰.۲۵	<p>درستی یا نادرستی هر مورد را مشخص کنید.</p> <p>عبارت مجموع معکوس‌های دو عدد برابر ۵ است به زبان ریاضی به صورت «$\frac{1}{x+y} = 5$» نوشته می‌شود.</p>	۱
۰.۲۵	<p>درستی یا نادرستی هر مورد را مشخص کنید.</p> <p>در تابع همانی f با دامنه \mathbb{R} همواره $f(x) + f(-x) = 0$ است.</p>	۲
۰.۲۵	<p>جای خالی را با عبارت مناسب کامل کنید.</p> <p>ارزش گزاره «۵ عددی فرد است و $\sqrt{4}$ مربع کامل است.» است.</p>	۳
۰.۲۵	<p>در استدلال زیر کدام گزینه <u>نادریست</u> است؟</p> <p>۱ مقدمه $x \leq 0 \Rightarrow x^3 \leq 0$</p> <p>۲ مقدمه $(k+1)^3 \leq 0$</p> <p>نتیجه $k+1 \leq 0$</p> <p>(۱) استدلال مغالطه است. (۲) نتیجه آن درست است.</p> <p>(۳) روش نتیجه‌گیری درست است. (۴) استدلال قیاسی استثنایی است.</p>	۴
۰.۲۵	<p>تابع $f = \{(3, 2a^2 + 1), (4, 2a + 5), (5, m)\}$ تابعی ثابت است. مقدار m کدام می‌تواند باشد؟</p> <p>۹ (۴) ۸ (۳) ۷ (۲) ۶ (۱)</p>	۵
۰.۵	<p>گزاره زیر را به صورت نماد ریاضی بنویسید.</p> <p>حاصل ضرب عددی در خودش، به علاوه ۵ بزرگ‌تر از خود آن عدد است.</p>	۶
۱	<p>نمودار تابع f به صورت مقابل داده شده است. اگر $g(x) = 1$ باشد، ابتدا ضابطه‌ی تابع $f + g$ را نوشته، سپس نمودار آن را رسم کنید.</p> 	۷
۱	<p>اگر $f(x) = \text{sign}(x)$ باشد، حاصل $\frac{f(-2) + f(\pi)}{f(0) - f(1)}$ را به دست آورید.</p>	۸

ردیف	سوال	بارم
۹	تابع $f(x) = x+1 - 2$ را به صورت دو ضابطه‌ای بنویسید.	۱.۵
۱۰	ارزش هر گزاره را مشخص کنید. (با ذکر دلیل) اگر $\sqrt{256}$ مربع کامل است، آنگاه $(-\frac{1}{3}) < (-\frac{1}{8})$.	۱
۱۱	جای خالی را با عبارت مناسب کامل کنید. اگر برد تابع $f(x) = \frac{2}{x+1}$ برابر $\left\{1, \frac{2}{3}\right\}$ باشد دامنه آن است.	۰.۵
۱۲	استدلال زیر در کدام مرحله نادرست است؟ دلیل نادرستی آن را بنویسید. ۴) $x = 1$ ۳) $4x = 4$ ۲) $\frac{4}{2} = 2x$ ۱) $\frac{3x+4}{3x+2} = 2x$	۱
۱۳	اگر گزاره $(p \wedge q) \Rightarrow p$ نادرست باشد، ارزش گزاره $(\sim p \vee q)$ را مشخص کنید.	۱.۲۵
۱۴	اگر $f(x) = x $ ، $g(x) = x $ باشد، نمودار $\frac{f}{g}$ را رسم کنید.	۱
		۱۰

<p>نام: نام آزمون: آزمون</p> <p>زبان یازدهم انسانی آزمون ۳۰ فروردین</p> <p>تعداد سوال: ۱۴</p>	 <p>سروش اندیشه مؤسسه فرهنگی-تربیتی</p> <p>نام برگزارکننده: موسسه سروش اندیشه</p>	<p>نام خانوادگی:</p>
--	--	----------------------

بارم	سوال	ردیف
۱.۵	<p>مکالمه ی بین رها و لیلا را بخوانید و با استفاده از کلمات داده شده جاهای خالی را کامل کنید. یک کلمه اضافی است.</p> <p>despite- mother tongue - fluently- to be honest</p> <p>Raha: Did you know about ۷۰۰۰ languages exist in the world?</p> <p>Leila: Wow! No, I didn't. What languages do you know?</p> <p>Raha: Besides my....., Persian, I know English, French and Russian well.</p> <p>Leila: Really?! Can you use all of them ?</p> <p>Raha: I know all of them well, but I use English more.</p> <p>Leila: How could you learn them their differences?</p> <p>Raha: Interest and hard work are the two secrets of learning a foreign language.</p>	۱
۰.۵	<p>جای خالی را با دانش واژگانی خود کامل کنید.</p> <p>My father speaks French so f_____ that everyone thinks he is native, but he doesn't use it very often.</p>	۲
۰.۵	<p>جای خالی را با دانش واژگانی خود کامل کنید.</p> <p>There are a lot of countries in the world with the p_____ of more than ۵۰۰ million who most of them are homeless.</p>	۳
۰.۵	<p>جای خالی را با دانش واژگانی خود کامل کنید. (اولین حرف کلمات داده شده است).</p> <p>An example of s_____ language is the means of communicating used by Hele Keller.</p>	۴
۰.۵	<p>یک واژه ناهماهنگ را انتخاب کنید.</p> <p>a) Indian b) African c) Asian d) European</p>	۵
۰.۵	<p>اشتباهات گرامری زیر را مشخص کنید و صحیح آن را بنویسید.</p> <p>There are more than two hundreds languages in Asia spoken by million of people.</p>	۶
۰.۵	<p>با استفاده از دانش گرامری، در جای خالی لغات مناسب بنویسید.</p> <p>We have to speed up, there isn't _____ time to finish the project.</p>	۷
۰.۵	<p>با استفاده از دانش گرامری، در جای خالی لغات مناسب بنویسید.</p> <p>The poor man found half a small _____ of brown bread to eat, but it was b</p>	۸

بارم	سوال	ردیف
۰.۵	<p>با استفاده از دانش گرامری، در جای خالی لغات مناسب بنویسید.</p> <p>My brother knows _____ English and I think it's not enough for his job.</p>	۹
۱	<p>با استفاده از کلمات درهم ریخته زیر، یک جمله معنا دار بنویسید.</p> <p>usually / a slice / evening / have / We / melon / of / in /the.</p>	۱۰
۱	<p>Find the subject (S) , verb (V) , object (O) , and additional information. (AI) → Adverb</p> <p>My mother made cookies last night.</p>	۱۱
۱	<p>Choose the best option to fill in the blanks.</p> <p>a. There are children playing in the park. (much / many)</p> <p>b. Give me a of that cake. (loaf / piece)</p> <p>c. There is bag of sugar in the kitchen. (a / some)</p> <p>d. We have cheese. We should go to supermarket. (few / little)</p>	۱۲
۰.۷۵	<p>با توجه به تصویر جاهای خالی را با کلمات مناسب کامل کنید.</p> <p>A: What do you need for breakfast?</p> <p>B: I need two (a) of (b), and three (c) of milk.</p> 	۱۳
۰.۷۵	<p>با توجه به تصاویر داده شده، جاهای خالی را کامل کنید.</p> <p>Last week, my mother and I went shopping. We bought two</p>  <p>۱. of rice,</p> <p>three</p>  <p>۲ of bread, and four</p>  <p>۳ of watermelon.</p>	۱۴
۱۰		